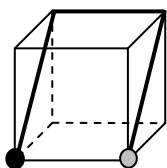


Wykonaj polecenie.

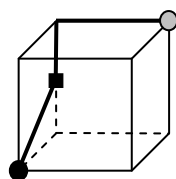
Na sześcianie zaznaczono drogę, jaką przeszedł po nim pająk od punktu ● do punktu ○. Symbolem ■ jest oznaczony punkt na krawędzi sześcianu, w którym pająk zmienił kierunek. Jak będzie przebiegała ta droga, jeżeli sześcian obrócimy? Narysuj ją, znając miejsce rozpoczęcia i zakończenia wędrówki pająka po sześcianie. Sprawdź odpowiedź. ► Jeśli rozwiążesz poprawnie dwa kolejne przykłady z jednego poziomu, możesz przejść na następny poziom.

poziom A



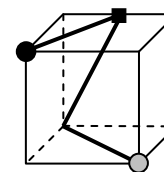
- a) b) c) d)

poziom B



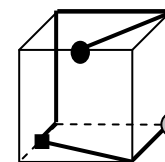
- a) b) c) d)

poziom C



- a) b) c) d)

poziom D

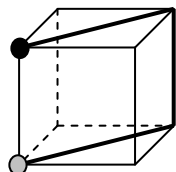


- a) b) c) d)

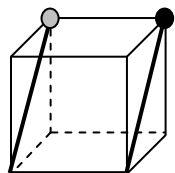
Odpowiedzi

poziom A

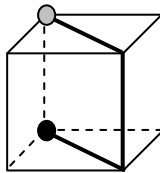
a)



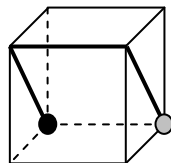
b)



c)

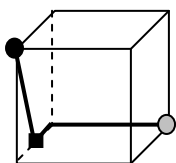


d)

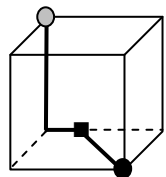


poziom B

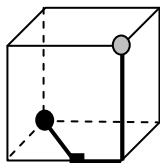
a)



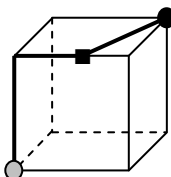
b)



c)

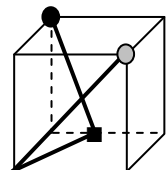


d)

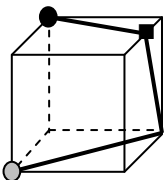


poziom C

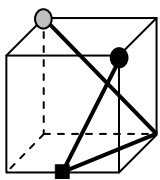
a)



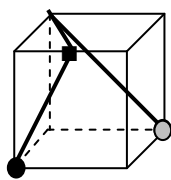
b)



c)

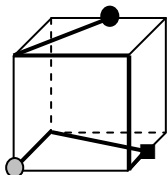


d)

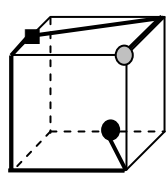


poziom D

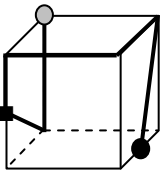
a)



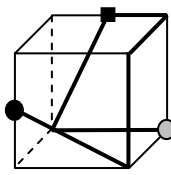
b)



c)



d)



Zadanie

